


1. Кто является «отцом географии»?




1) Аристотель



2) Эратосфен



3) Птолемей



4) Страбон


2. Какой прибор служит для определения направления ветра?



1) компас



2) барометр



3) флюгер



4) термометр

3. Какое полезное ископаемое дано в описании: «Это маслянистая жидкость со специфическим запахом, темного цвета, хорошо горит, легче воды»?

1) гранит

2) нефть

3) природный газ

4) ртуть

4. Какой материк из перечисленных самый южный?

1) Африка

2) Австралия

3) Южная Америка

4) Антарктида

5. Какой океан является самым большим по площади?

1) Атлантический

2) Тихий

3) Индийский

4) Северный Ледовитый

6. Представители, какой расы имеют следующие внешние признаки - темный цвет кожи, кучерявые темные волосы, пухлые губы:

1) монголоидной

2) негроидной

3) европеоидной

7. Установите соответствие между названием оболочки и переводом её названия с латинского языка:

- 1. литосфера ~~а) оболочка жизни~~
- 2. гидросфера ~~б) твердая или каменная оболочка земли~~
- 3. биосфера ~~в) воздушная оболочка~~
- 4. атмосфера ~~г) водная оболочка~~

8. Какую часть гидросферы нельзя видеть на физической карте мира?

- 1. океаны
- 2. подземные воды
- 3. реки
- 4. ледники

9. Что является главной причиной смены дня и ночи?

- 1) вращение Земли вокруг Солнца
- 2) вращение Земли вокруг своей оси
- 3) вращение Луны вокруг Земли
- 4) вращение Луны вокруг Солнца

10. Какая гора является высочайшей вершиной суши?

- 1) Килиманджаро
- 2) Эльбрус
- 3) Аконкагуа
- 4) Джомолунгма

11. Какой материк экватор пересекает посередине?

- 1) Евразию
- 2) Австралию
- 3) Африку
- 4) Южную Америку

12. В честь землепроходца Хабарова названы Хабаровский край и г. Хабаровск. Назовите его имя землепроходца.

- 1) Евграф
- 2) Ермак
- 3) Евгений
- 4) Ерофей

13. Кто был руководителем первого кругосветного путешествия?

- 1) Христофор Колумб
- 2) Фернан Магеллан
- 3) Васко да Гамма
- 4) Джеймс Кук

14. Какое море омывает территорию Хабаровского края?

- 1) Аравийское
- 2) Берингово
- 3) Средиземное
- 4) Охотское

15. Какой материк включает в себя две части света?

- 1) Африка
- 2) Южная Америка
- 3) Северная Америка
- 4) Евразия

140

Аналитический тур.

Задание №1.


Рассмотрите фотографии животных. Назовите животных, укажите на каких материках и в каких природных зонах они обитают. Ответ занесите в таблицу.



А



Б



В



Г

Фотография	Название животного	Материк	Природная зона
А	Белый медведь +	Евразия +	арктические пустыни +
Б	Грехосец +	Южная Америка +	полупустыни +
В	жираф +	африка +	саванна +
Г	коала +	австралия +	леса +

Задание №2.

- 1) Запиши название региона (край) область, республика, автономный округ) в котором ты живёшь. Кабардино-Балкарский край +
- 2) Запиши название главного города нашего региона. Кабаровск + 25
- 3) Перечислите редкие растения и животные региона. мир, лотос
- 4) Опиши внешний вид одного из перечисленных растений и укажи, как оно используется человеком.

Задание №3.

Рассмотрите контуры полуостровов материка Евразия.

- 1) Выпишите название этих полуостровов начиная с самого большого. Аравийский, Кавказский, Скандинавский, Камчатка + 15
 - 2) Какой из них является частью Российской Федерации (с использованием школьного атласа для 5-6 классов). Камчатка + 15
 - 3) На каких полуостровах находятся вулканы? Напишите их названия. Везувий, Этна, Фликсский
- Ключевская сопка) Камчатка 25

45



1



2



3



4

Задание №4.

Прочитайте отрывок из стихотворения И. Лившиц.

- 1) Напишите название озера, о котором говорится в стихотворении. Байкал +
- 2) На территории какого государства оно расположено? Россия +
- 3) В чем заключается уникальность этого озера? самый чистый, глубокий +
- 4) Какая река берет начало из данного озера? Ангара +

45

Нет равных ему озер на Земле,
 Он самый глубокий и чистый!
 Прекрасен утрами, в вечерней заре,
 В снегах и под снегом лучистым.
 Впадает в него сотни рек и ручьев.
 Одна Ангара вытекает.
 На озере много еще островов-
 Олхон самым крупным считают.

Задание №5.

Какую стороны горизонта на Руси называли полуденной, а какую – полуношной? Объясните.

375-8290. 41 B-3

Школьный этап Всероссийской олимпиады по географии 6 класс. Тестовый раунд

1. В 2018 году городу Хабаровску исполняется 160 лет, а Хабаровскому краю – 80 лет. Данные географические объекты названы в честь землепроходца Хабарова. Назовите его имя:

- 1) Евграф 2) Ермак 3) Евгений 4) Ерофей

2. Компас был изобретен:

- 1) в Древнем Китае
2) в Древней Индии
3) в Древнем Египте
4) в Междуречье

3. Большая часть знаний о внутреннем строении Земли получена учеными:

- 1) При изучении движения солнечных лучей
2) При изучении землетрясений и извержений вулканов
3) При изучении глубин океанов
4) При изучении почв

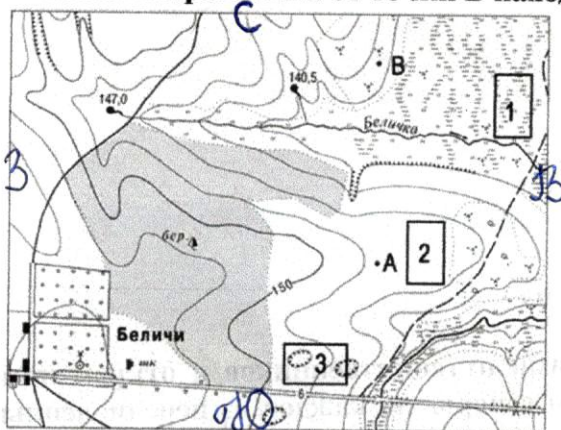
4. Из перечня выберите признаки, характерные для параллелей:

- 1) имеют форму полуокружности
2) показывают направление «запад – восток»
3) показывают направление «север – юг»
4) соединяют северный и южный полюсы
5) имеют равную длину
6) их длина уменьшается от экватора к полюсам
7) их направление совпадает с направлением тени от предметов в полдень
8) имеют форму окружности

5. Первым мореплавателем, дважды совершившим кругосветное плавание, был:

- 1) Христофор Колумб
2) Эйрик Рыжий
3) Джеймс Кук
4) Фернан Магеллан

6. В каком направлении от точки В находятся Беличи?



- 1) северо-восток
2) юго-восток
3) северо-запад
4) юго-запад

7. Какой природный объект расположен на востоке от точки А?

- 1) болото
2) река
3) березовый лес
4) кустарники

8. Назовите материки, которые пересекает экватор

- 1) Африка
2) Южная Америка
3) Австралия
4) Антарктида
5) Евразия
6) Северная Америка

9. Выберите неверное утверждение

- 1) 21 марта на всей Земле день равен ночи

- 2) Осевое вращение Земли вызывает смену времен года (7)
- 3) Земля совершает полный оборот вокруг Солнца за 1 год
- 4) 22 декабря Южное полушарие освещено больше, Солнце в зените на Южном тропике

10. Выберите из списка планету земной группы:

- 1) Юпитер
- 2) Венера
- 3) Нептун
- 4) Сатурн —

11. Из списка выберите метаморфические горные породы:

- 1) Гипс
- 2) Гнейс (5)
- 3) Базальт
- 4) Мрамор 15


12. Какие слои Земли включает в себя литосфера?

- 4) 1) Земную кору и верхнюю мантию
- 2) Земную кору и внутреннее ядро
- 3) Земную кору и нижнюю мантию
- 4) Мантию и внешнее ядро

13. Выберите самые высокие горы Хабаровского края:

- 1) Сунтар-Хаята
- 2) Джугджур
- 3) Сихотэ-Алинь —
- 4) Хехцир

14. Какому численному масштабу соответствует линейный масштаб



- 1) 1:2500
- 2) 1:250000
- 3) 1:25
- 4) 1:250 —

15. Из каких слоев состоит океаническая земная кора?

- 1) Осадочный, гранитный, базальтовый
- 2) Осадочный, базальтовый (7)
- 3) Осадочный, гранитный
- 4) Базальтовый, гранитный

145.

Аналитический раунд

Задание №1. Установите соответствие между именами путешественников и открытиями, которые они совершили. Определите век, в котором совершено каждое из перечисленных открытий. Вспомните, какие географические объекты названы именами этих путешественников? Ответ представьте в виде таблицы. Используйте физическую и политическую карты мира в атласе.

Имя путешественника	Открытие, которое совершил путешественник	Век, в который совершено открытие	Географические объекты, названные в честь путешественника
Христофор Колумб	открытие Америки +	X-XV век +	страна +
Фернан Магеллан	первое кругосветное плаванье +	XVI век +	пролив +
Фаддей Беллинсгаузен	открытие Антарктиды +	XIX век +	море +
Василий Поярков	первое посещение Якутии +	XVII век +	село +
Руал Амундсен	первое покорение Южного полюса +	XX век +	море +


Список открытий:

- 1) Первое кругосветное плавание
- 2) Открытие Антарктиды

75.

- 3) Первый выход к Амуру
- 4) Первое покорение Южного полюса
- 5) Открытие Америки


Задание №2. Рассмотрите иллюстрации. Разгадайте анаграммы. Установите, какое понятие объединяет изображенные объекты? Выберите из предложенных объектов полезные ископаемые.




сеграфмой сейсмограф +



Вуеивиз вулкан +



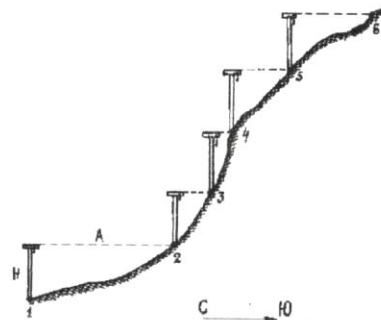
гитанр гранит +



Эсертв Эверест +



аврниан равнина +



ивирелн цивилизация +



ульог уголь +



зениемлетрясе землетрясение +

Общее понятие: литосфера 15

Полезные ископаемые: уголь, гранит +

(65)

Задание №3. Интересная история приключилась с Захаром Загадкиным в конце декабря. Прочитайте текст и объясните Захару, где находится Солнце в данное время года.

«Конец декабря застал нас по пути из Суэцкого канала в столицу Индонезии Джакарту. До Нового года предстояло отпраздновать одно веселое событие – переход экватора. По традиции, в торжественную минуту новичков искупали в морской воде и вручили свидетельство о переходе экватора.

После праздника мы занялись уборкой. И тут я увидел такое, что заставило меня вскрикнуть: солнце по-прежнему светило с юга, хотя после пересечения нами экватора должно было светить с севера!

Что случилось? Солнце ведет себя так, словно его не касается столь важное событие, как переход экватора нашим судном... Возможно ли это? Ведь даже самое почтенное и уважаемое небесное светило обязано считаться с законами природы...»

В конце декабря на территории Суэцкого канала зима, потому что он находится в северной полушарии, столица Индонезии Джакарта расположена в южной полушарии и декабрь у них это лето, поэтому и солнце светит с севера. (35)

Задание №4. Николай Михайлович Пржевальский, путешествуя по Уссурийскому краю, писал «Здесь на каждом шагу встречаешь роскошь и разнообразие». Какой природной зоне посвящено это высказывание? Чем уникален ее растительный и животный мир? Приведите примеры редких представителей животного и растительного мира этой зоны.

Уссурийская тайга; животный мир: тигры, леопарды, рысь, енги, зайцы, медведи, волки, лисы; растительный мир: лимонник, орех бархотки Амурской, виноградники, жень-шень, листвен. (15) (35)

Задание №5. Рассмотрите рисунок. Подпишите названия материков, контуры которых изображены на нем. Какой материк отсутствует на рисунке? Назовите три характерные особенности географического положения этого материка.

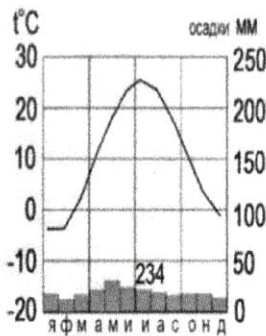


На рисунке отсутствует материк Евразия. Три характерные особенности: Евразия - самый обширный материк; полностью расположена на северной полушарии; состоит из двух частей света - Европы и Азии. (15) (45)

Школьный этап Всероссийской олимпиады школьников по географии

7 класс Тестовый тур

- 1. Наука, изучающая природу земной поверхности, называется
 - а) лимнология, б) биология, в) физическая география, г) геология
- 2. Модель, уменьшенная копия Земли, - это:
 - а) аэрофотоснимок, б) план местности, в) глобус, г) географическая карта.
- 3. Антарктиду открыл:
 - а) Юрий Лисянский, б) Иван Крузенштерн, в) Фаддей Беллинсгаузен, г) Руаль Амундсен.
- 4. Самым верхним слоем материковой земной коры является:
 - а) базальтовый б) осадочный в) гранитный г) кварцевый
- 5. Горная порода метаморфического происхождения – это:
 - а) глина, б) мрамор, в) известняк, г) гранит
- 6. Используя данные климатограммы, определите верное утверждение:



- а) Среднегодовое количество атмосферных осадков составляет менее 200 мм
- б) Температуры воздуха в декабре выше, чем в мае;
- в) Максимальное количество атмосферных осадков приходится на сентябрь
- г) В течение всего года температура воздуха не опускается ниже -5°C ;
- 7. По радио передали: «Влажность воздуха в городе составляет 55%». О чем идет речь?
 - а) об абсолютной влажности, б) об относительной влажности, в) абсолютной и относительной влажности, г) о повышении давления.
- 8. Самый жаркий материк - это
 - а) Африка б) Австралия в) Южная Америка, г) Антарктида
- 9. Самый крупный масштаб – это:
 - а) 1:10 000 б) 1:25 000 в) 1:40 000 г) 1:250 000
- 10. Материки, которые пересекаются экватором, - это:
 - а) Африка и Южная Америка б) Антарктида и Евразия в) Евразия и Африка г) Южная Америка и Евразия
- 11. Корабль, на котором было совершено первое кругосветное путешествие – это:
 - а) «Золотая лань» б) «Надежда» в) «Санта-Мария» г) «Виктория»
- 12. Выберите верную пару:
 - а) Гималаи - Эверест, б) Альпы – Белуха,
 - в) Кавказ - Народная, г) Анды – Эверест.
- 13. Самый глубокий океан:
 - а) Северный Ледовитый б) Тихий в) Атлантический г) Индийский
- 14. Страна-рекордсмен по численности населения мира:
 - а) Индия б) Россия в) США г) Китай
- 15. Какой из указанных островов самый крупный?
 - а) Сахалин б) Мадагаскар, в) Гренландия, г) Шри-Ланка

155

Аналитический тур

Задание №1. Прочитайте отрывок, ответьте на предложенные вопросы:

Зимой материк бывает более холодный и, следовательно, давление над ним более высокое, чем над океаном. И воздушные массы, как известно, перемещаются из областей с высоким давлением в области с пониженным давлением. В переводе с арабского языка это ветер называется «Сезон».

1. О каком ветре идет речь? „сезон“
2. В каких районах страны мы можем наблюдать эти ветры?
3. В чем проявляется их влияние на климат? —

Задание №2. Заполнить таблицу. Соотнести: название прибора (барометр, гигрометр, осадкомер, флюгер, эхолот); единица измерения (балл, метр, миллиметр, миллиметр ртутного столба, процент). Укажите что определяют приведенные в таблице приборы.

Фотография прибора	Название прибора	Единицы измерения	Что определяет?
	Осадкомер +	мм +	количество + осадков.
	Барометр +	мм ртутного + столба	давление. +
	Гигрометр +	процент +	+ влажность воздуха

	флюгер +	Салма.	Стрелка и направление ветра.
	Эхолот +	метр +	Глубина. 7,55.

Задание №3. Выберите из перечисленных названий стран те страны, название которых совпадают с названиями их столиц.

Китай, Алжир, Индия, Великобритания, Панама, США, Франция, Тунис, Бразилия, Польша.
 Укажите страну, по территории которой проложен канал, соединяющий два океана. Панама +
 Назовите эти океаны. Атлантический, Индийский +

25

Задание №4. Этот мореплаватель португалец по происхождению, но сменил подданство на испанское. Его экспедиция совершила первое кругосветное плавание. В 1519-1521 гг. он руководил испанской экспедицией по поиску западного пути к Молуккским островам. Первым пересёк Тихий океан, достиг Филиппинских островов, где погиб в схватке с местными жителями. Плавание завершил другой капитан, его помощник, который, затем на своём фамильном гербе изобразивший Землю и подписавший: «Я тот, кто тебя обогнул».

Кто эти путешественники? Какие географические объекты носят имя первого мореплавателя?
Первый путешественник - мореплаватель Ф. Магелан + 15.
В честь него назвали Магеланов пролив. + 15

25

Задание №5. Третью часть материка занимают пустыни, одна из них является крупнейшей в мире, её площадь около 8 млн км². Назовите пустыню. О каком материке идёт речь? Перечислите ещё 5 пустынь этого материка. Что такое эрги и гаммады?

Эрги - каменистые пустыни. + 15

Гаммады - песчаные пустыни 15

Африка: Калахарин, Гамбий, Сахара, Долина, Карру.

35.

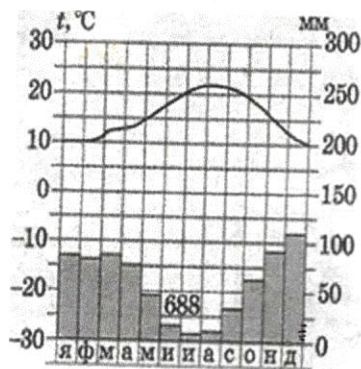
58

8 класс

Тестовый раунд

375 - 82%

1. Вычислите годовую амплитуду температур и соотнесите с ответами и поставьте соответствующую букву.



А) 5°

Б) 10°

В) 12°

2. Назовите правильные утверждения:

- А) Белиз – государство на востоке Африки
- Б) Тана – озеро в Эфиопии
- В) Вулкан Килиманжаро находится в Африке
- Г) Масеру – город в ЮАР
- Д) Джая – вершина на острове Новая Гвинея

Е) желоб Кайман находится в Тихом океане

3. Закончите определение: «Геонд – это...»

- А) поверхность Земли Б) форма Земли В) внутреннее строение Земли Г) искусственный спутник Земли

4. По радио передали: «Влажность воздуха в городе составляет 55%». О чем идет речь?

- А) об абсолютной влажности,
- Б) об относительной влажности,
- В) абсолютной и относительной влажности,
- Г) о повышении давления.

5. Почему Аляску раньше называли «Русская Америка»?

- А) ее природа похожа на природу России;
- Б) она была открыта и исследована русскими мореплавателями;
- В) ее коренные жители разговаривали на русском языке;
- Г) Аляска – в переводе означает «русский».

6. Полуанклав – часть государства, окружённая территорией другого государства на суше, но имеющая выход к морю. Какой субъект России является полуанклавом:

- А) Чукотский АО
- Б) Ненецкий АО
- В) Калининградская область
- Г) Адыгея

7. Самый большой остров России:

- А) Мадагаскар
- Б) Сахалин
- В) Врангеля
- Г) Гренландия

8. Заросли сухих кустарников скрэбы – широко распространены в

- А) Австралии
- Б) Африке
- В) Южной Америке
- Г) Евразии

9. Направлению на ЮВ соответствует азимут:

- А) 135°
- Б) 290°
- В) 15°
- Г) 270°

10. Определите примерную высоту горы, если известно, что у ее подножия температура воздуха составила +16°C, а на ее вершине –8°C:

- А) 1300 м
- Б) 4000 м
- В) 2400 м
- Г) 400 м

11. Укажите самое МЕЛКОЕ море на Земле:

- А) Филиппинское
- Б) Азовское
- В) Балтийское
- Г) Карибское

12. Выберите из списка геологическую эру, в которую образовались горы Джугджур в Хабаровском крае

- А) архейская
- Б) протерозойская
- В) палеозойская
- Г) мезозойская

13. Бурный грязе-каменный поток, часто возникающий на окончании ледника при сильных ливнях или при интенсивном таянии снега, перемещающийся по склону и несущий с собой массу камней – это:

- А) оползень
- Б) наводнение
- В) сель
- Г) морена

14. У реки Амур преобладающим видом питания является:

- А) снеговое
- Б) дождевое
- В) ледниковое
- Г) подземными водами

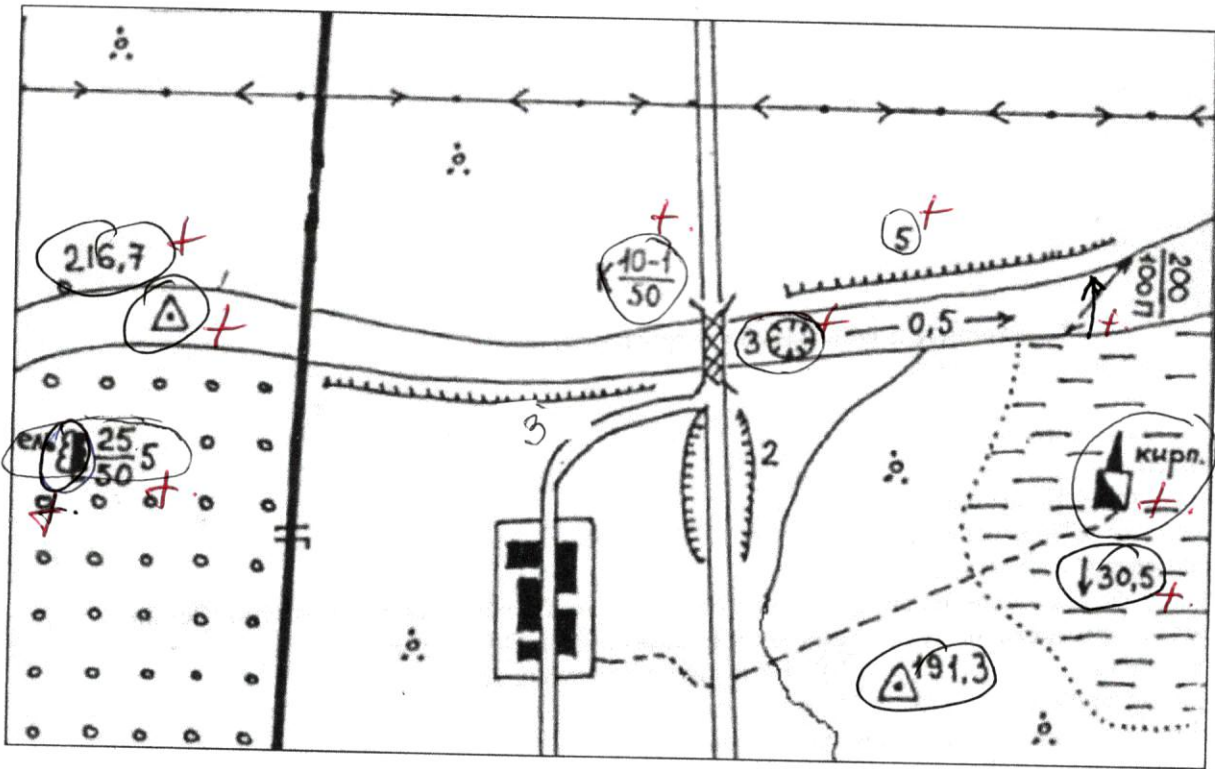
15. С глубиной температура воды в Мировом океане изменяется следующим образом:

- А) сначала не изменяется, а затем повышается;
- Б) сначала понижается, затем не изменяется; В) сначала повышается, затем понижается.

145

Аналитический раунд

Задание №1. На топографической карте допущены ошибки. Какие объекты изображены ошибочно и в каких параметрах допущены ошибки (цвет не учитывать)



95

Задание №2. По берегам озера расположено несколько заповедников. Один из них был основан в 1916 году для сохранения ценного зверька, обитающего в районе хребта на восточном берегу. Хребет и вид животного получили название от реки, которая впадает в озеро. Река дала также название местному северо-восточному ветру. В целом район озера характеризуется сложной системой местных ветров.

О чем и о ком идет речь? Район озера Байкал

Название реки: Баргузин

Название ветра: Баргузинский

Название заповедника: Баргузинский

Название зверька: Соболь Баргузинский

45

Задание №3

«Кто-то метко заметил, что человек, попавший в эти леса, дважды испытывает острую радость: в первый день, когда, ослеплённый их сказочными богатствами, он думает, что попал в рай, и в последний день, когда на грани безумства он наконец удирает из этого «зелёного ада».

Амазонка, Тропики, Северная Америка

О какой природной зоне и почему так писал польский учёный А. Фидлер? Где она расположена?

Выберите из списка растения и животных, которых вы можете встретить в этих лесах:

Баобаб, ель, сосна, дуб, гевея, акация, шоколадное дерево, лютик, мак, орхидеи, держи-дерево, саксаул, лиственница

Джейран, соболь, ленивец, летяга, ягель, песец, лемминг, кенгуру, тушканчик, суслик, лев, бурый медведь, верблюд, белка, ягуар, анаконда, тукан, тапир, лиса, як

250

58

Задание №4. Россия граничит по суше с 14 государствами. Определите, о каких трёх государствах идёт речь, назовите их столицы.

Первое: Казахстан

А) После распада СССР столица этого государства сначала изменила свое название, а затем изменила и местоположение.

Б) Страна располагает крупными запасами топливно-энергетического сырья: занимает 8 место по разведанным запасам угля и удерживает 3 место по разведанным запасам урана после Австралии и Канады.

В) По переписи населения 1989 года доля титульной нации составляла - 39,7%, почти столько же было русских - 37,8%.

Второе: Турция

Первые государства стали появляться на этой территории в VI – IV в.в. до н.э. В XVI веке территорию поделили между собой Турция и Иран.
 Б) Весной 2006 года правительство РФ наложило вето на поставку в Россию некоторых видов продукции этой страны.
 В) Мировое значение имеет Чиатурское месторождение марганца.

Третье: Финляндия +

А) Численность населения этой страны почти равна численности жителей в Санкт-Петербурге. В этой стране два официальных языка. 25.
 Б) Одно из главных природных богатств – леса, которые занимают 70 % территории (доминирует сосна).
 В) Озера занимают 8 % территории и имеют в основном котловины ледниково- тектонического происхождения.

✓ **Задание №5.** Отгадайте слова, являющиеся географическими понятиями, названиями и именами, в которых есть числительное 100.

1. Сторона света - Восток +
2. Начало реки. Исток +
3. Главный город страны. Столица +
4. Государство в Прибалтике. Эстония +
5. Город "Золотого кольца" России. Северный Ростов +
6. Героический город в Крыму, давший название знаменитому вальсу. Северный Севастополь +
7. Город РФ, порт на Тихом океане. Владивосток +
8. Столица Ямайки, порт на Карибском море. Кингстон +
9. Город США, порт на Атлантическом океане. Росток +
10. Город в Германии, порт на Балтийском море. Росток +
11. Столица Швеции, порт на Балтийском море. Стокгольм +
12. Имя мореплавателя, открывшего Америку. Христофор Колумб +
13. Фамилия исследователя, открывшего водопад Виктория, одноимённый город в Замбии. Ливингстон +

1. Какая из перечисленных эпох складчатости является самой молодой?

- А. Байкальская Б. Герцинская В. Каледонская Г. Мезозойская

2. Найдите ошибку:

- А. Алтай-Белуха Б. Урал-Народная В. Кавказ-Монблан Г. Аппалачи-Митчелл

3. Выберите страну, которая имеет самую длинную сухопутную границу с Россией:

- А. Китай Б. Казахстан В. Финляндия Г. Монголия

4. Представители, какого народа первыми на территории Российской Федерации

встречают Новый Год в местах своего компактного проживания?

- А. Удмурты Б. Долганы В. Поморы Г. Нанайцы

5. В каком городе в июле выпадает больше всего осадков?

- А. Владивосток Б. Астрахань В. Новосибирск Г. Якутск

6. На какой реке находится город Самара?

- А. Амур Б. Обь В. Дон Г. Волга

7. Выберите правильное утверждение:

- А. Многолетняя мерзлота повсеместно распространена на юге Сибири и Дальнего Востока.
 Б. Многолетняя мерзлота занимает 2/3 территории России.
 В. Многолетняя мерзлота проходит сплошной полосой вдоль всей южной границы России.
 Г. Многолетняя мерзлота распространена на островах Северного Ледовитого океана и его побережье

8. Какие три вида животных обитают в тайге:

- А. Песец, лемминг, морж Б. Тушканчик, мышь полевая, жаворонок.
 В. Выхухоль, олень, кабан Г. Лось, глухарь, рысь.

9. Какая территория Российской Федерации выделяется наибольшим гидропотенциалом?

- А. Поволжье Б. Западная Сибирь В. Европейский Север Г. Восточная Сибирь.

10. По какой реке проходит государственная граница Российской Федерации?

- А. Обь Б. Енисей В. Амур Г. Дон.

11. К какому географическому объекту, из предложенных, не подходит ни один из слоганов:

1. «При пересечении попадете из одной части света в другую».
 2. «Здесь проходит граница между полушариями».
 3. «Здесь вы попадете из умеренного пояса в субтропический»

- А. Чукотский полуостров Б. Урал В. Кавказ Г. Алтай.

12. Какой крайней точки России соответствуют следующие координаты

66° с.ш. 169° з.д.:

- А. Мыс Дежнева Б. Мыс Челюскин В. Гора Базардюзю Г. Песчаная коса Балтийского моря.

13. Какой набор показателей оказывает влияние на численность населения?

- А. Средняя плотность населения, рождаемость, смертность.
 Б. Рождаемость, число умерших за год, соотношение полов в возрастных группах.
 В. Коэффициент естественного прироста (убыли), миграционный прирост, средняя плотность населения.
 Г. Число умерших за год, число родившихся за год, миграционный прирост (убыль) за год.

14. Кто из путешественников не является землепроходцем, исследователем Хабаровского края:

- А. И.Ю. Москвитин Б. В.Д. Поярков В. Е.П. Хабаров Г. С.И. Дежнев

15. Что является примером рационального природопользования:

- А. Задержка снега на полях. Б. Распашка вдоль склонов. В. Вырубка леса в верховьях рек. Г. Подсечно-огневое земледелие.

Аналитический тур Задание №1. Проранжируйте 5 самых крупных по площади субъектов России. Какие из них относятся к государственно-территориальным, а какие к национально-территориальным образованиям?

Задание №2. Объясните причину обильных осадков во второй половине лета в южных и центральных районах Хабаровского края. Какие негативные последствия возникают. Приведите пример наиболее разрушительного из них.

- 1 - Коми - национальный
 2 - Якутия - национальный
 3 - Красноярский край - государственный
 4 - Томская область - государственный
 5 - Хабаровский край - государственный

2) возникло в результате обильных осадков или сбрасывание воды. ГЭС.
 2013 году самое разрушительное наводнение.

Задание №3. Определите численность населения Магаданской области на 1 января 2015 года.

Год	Численность населения на 1 января(чел.)	Родилось за год (чел.)	Умерло за год (чел.)	Выехало за пределы области (чел.)	Прибыло из других регионов (чел.)
2014	150312	1834	1789	7998	238
2015	? 142507 142507				

142507

18.

Задание № 4. Затраты на отопление жилых и производственных помещений в холодное время года в значительной степени зависят от средних зимних температур. Запишите названия перечисленных городов России в порядке повышения средней температуры января в них, начиная с города с самой низкой температурой.

Нижневартовск, Рязань, Пермь.

1 3 2

35

Задание №5. В регионах, где построены крупные ГЭС, тарифы на электроэнергию для населения значительно ниже, чем в тех, где работают другие виды электростанций. Жители, каких регионов имеют возможность пользоваться дешевой электроэнергией? Республика Татарстан, Хабаровский край, Тверская область, Республика Хакасия, Псковская область, Амурская область.

+ + +

+ +

35.

Школьный этап Всероссийской олимпиады по географии 10 класс Тестовый тур

1. Выберите верное утверждение о географическом положении России

- A) Россия граничит с Грузией, Арменией, Азербайджаном
- B) Крайняя материковая северная точка России является крайней точкой Евразии
- B) Моря России относятся к бассейнам всех четырех океанов
- Г) Самую протяженную сухопутную границу Россия имеет с Китаем

2. Выберите верное утверждение о народах России.

- A) Россия - самая многонациональная страна в мире
- B) Карелы и коми относятся к индоевропейской языковой семье
- B) Татары - второй по численности народ России
- Г) Калмыки и удмурты исповедуют ислам

3. Отметьте верное соответствие между названием электростанции и ее типом

- A) Братская - тепловая электростанция
- B) Саяно - Шушенская - гидроэлектростанция
- B) Паужетская - атомная электростанция
- Г) Билибинская - геотермальная электростанция

4. Лидером по добыче нефти в России является

- A) Татарстан
- B) Ханты-Мансийский автономный округ
- B) Ямало - Ненецкий автономный округ
- Г) Башкортостан

5. Для размещения предприятий по выплавке алюминия ведущее значение имеет фактор

- A) водный
- B) транспортный
- B) энергетический
- Г) трудовых ресурсов

6. Производство азотных удобрений развивается вблизи предприятий

- 1) черной металлургии полного цикла
- 2) цветной металлургии
- 3) судостроения
- 4) передельной металлургии

7. Установите соответствие между народами и их расовой принадлежностью.

Раса	Народ
1) Негроидная	<input checked="" type="checkbox"/> А. Русские, французы
2) Монголоидная	<input checked="" type="checkbox"/> Б. Пигмеи, папуасы
3) Европеоидная	<input checked="" type="checkbox"/> В. Китайцы, японцы

8. Естественный прирост населения - это ...

- A) увеличение численности населения в результате увеличения рождаемости
- B) разность между числом родившихся и умерших на одну тысячу жителей
- B) увеличение численности населения в результате иммиграции
- Г) разность между числом иммигрантов и эмигрантов на одну тысячу жителей

9. Самая густонаселенная страна в мире - это ...

- A) Индия
- B) Китай
- B) Монако
- Г) Республика Корея

10. Уникальный минеральный ресурс, добываемый в Калининградской области

- A) изумруды
- B) янтарь
- B) мрамор
- Г) асбест

11. Страна, имеющая наименьшую плотность населения.

	Страна	Площадь, тыс. кв. км	Население, млн чел.
<input checked="" type="checkbox"/> 1	Армения	30	3
2	Великобритания	244	61
<input checked="" type="checkbox"/> 3	Парагвай	407	7
4	Малайзия	333	25

12. Выберите из перечисленного списка наиболее крупную городскую агломерацию

- 1) Мехико
- 2) Сидней
- 3) Стокгольм
- 4) Санкт-Петербург

13. Страна, где в общей численности населения доля горожан наибольшая

- 1) Болгария
- 2) Португалия
- 3) Китай
- 4) Кувейт

14. Государство, имеющее монархическую форму правления.

- 1) Испания
- 2) Португалия
- 3) Франция
- 4) Финляндия

15. Государство, имеющее унитарный тип устройства

- 1) Франция
- 2) США
- 3) Германия
- 4) Россия

Аналитический тур

Задание № 1. Определите район и административный центр Хабаровского края по его гербу и фотографии. Заполните таблицу.

№	Характеристики	Район Хабаровского края	Административный центр
1.	 	<p>Камо- вский</p> <p>+</p>	<p>село Бросуково</p> <p>++</p> <p>2,55</p>
2.	 	<p>Верхне- Бурейский</p> <p>+</p>	<p>15</p>
3.	 	<p>Камо- вский</p> <p>+</p>	<p>2. Камо- вский - Амур</p> <p>+</p> <p>2,5</p>
4.	 	<p>Ванинский</p> <p>+</p>	<p>пгт Ванино</p> <p>+ 05</p> <p>2,5</p>

5.



Ханты-Мансийская обл.
 + ++
 255.
 15

Задание №2. По берегам озера расположено несколько заповедников. Один из них был основан в 1916 году для сохранения ценного зверька, обитающего в районе хребта на восточном берегу. Хребет и вид животного получили название от реки, которая впадает в озеро. Река дала также название местному северо-восточному ветру. В целом район озера характеризуется сложной системой местных ветров.

О чем и о ком идет речь?

Название реки: Сененга Название ветра: Борбужский
 Название заповедника: Борбужеский Название зверька: Бобр

Задание №3. Заполните пропущенные строки в таблице «Центры народного промысла Европейской части России».

Центр традиционных народных промыслов	Назвать изделие народного промысла	Причина развития данного промысла в этом центре
	Керамическая посуда (или роспись посуды, или фарфоровая посуда, или керамика)	сырьевая - наличие собственных разнообразных глин.
Дымково (Киров)		
	лаковая миниатюра, или иконопись	
	Роспись по дереву, или роспись деревянной мебели и посуды	

Задание №4. Эта страна-архипелаг по форме правления является конституционной монархией. Однородное по национальному составу население этой страны отличается большой численностью: она входит в первую десятку населения стран мира. Страна обладает очень крупным и самым современным морским торговым флотом, так как около 9/10 используемого сырья и топлива импортируется.

Определите страну Япония и назовите ещё 2 страны, имеющие такое географическое положение. Гондурас Великобритания

Задание №5. Заполните таблицу на основе текста.

Отличительной особенностью этой территории считается разнообразие природного ландшафта: от плоской полупустынной низменности до покрытых снегом горных хребтов, где расположена высочайшая «точка» субъекта, которая с 1991г. приобрела ещё один важный статус. Несмотря на то, что название субъекта переводится как «страна гор», горные и предгорные ландшаф-

ты занимают 56% территории, остальное - равнины, самая крупная из которых имеет два названия. Первое связано с названиями, ограничивающих её рек, а второе - с названием малочисленного народа, здесь проживающего. Расположившись на нескольких «границах», этот регион имеет богатую историю. По его территории проходил известнейший торговый путь древности, один из населённых пунктов считается первым центром виноделия, а другой - древнейшим городом РФ. Основные отрасли производства: сельское хозяйство (по выращиванию одного из видов с/х продукции регион является одним из лидеров в стране, вторая отрасль даёт сырьё ковроткачеству), виноделие, рыболовство, добывающая промышленность, электроэнергетика и народные промыслы (например, художественная обработка металла). Важнейшим культурным наследием территории является танец, названный в честь одного из народов проживающего на этой удивительной земли.

1. Субъект РФ и его столицу	Дагестан 15 Махачкала 0,5
2. Высочайшую точку и её дополнительный статус	Бизаргюрю 15
3. Оба названия равнинной территории	—
4. Три крупнейших народа	аварцы 15. Кумыки 15.
5. Торговый путь	шелковый путь 0,55.
6. Танец	Дузино 0,55
7. Центр виноделия	Кизляр 0,55
8. Центр художественной обработки металла	Кудюзи 0,55
9. Древнейший город России	Дербент 0,55.
10. Две отрасли специализации сельского хозяйства	Нартинское хозяйство овцеводство 15
11. Важнейший вид промысловых рыб региона	басра 0,55.
12. Отрасли добывающей промышленности	Нефть газ 25
13. Преобладающий тип электростанций	ГЭС 15

11,55

Школьный этап Всероссийской олимпиады школьников по географии
11 класс

Тестовый тур

1. Какая пара стран располагается в Юго-Восточной Азии?

1. Катар и Непал 2. Лаос и Вьетнам 3. Бангладеш и Индия 4. Иран и Афганистан

2. Канал кайзера Вильгельма (Кильский) соединяет...

1. Балтийское море и Северное море 2. Балтийское море и Атлантический океан

3. Мегалополис Босвац находится на территории ...

1. Великобритании 2. США 3. ФРГ 4. Японии

4. Закончите определение: «Геоид – это...»

1. поверхность Земли 2. форма Земли 3. внутреннее строение Земли 4. искусственный спутник Земли

5. На какой реке в России располагается больше всего городов миллионеров? Назовите эту реку и города

река Волга

города-

миллионеры: Новгород, Москва, Казань, Самара, Волгоград

6. Определите город по репродукции. (1 балл)



1. Париж 2. Вена 3. Барселона 4. Рим

7. Определите город по описанию. (по одному баллу за каждый правильно названный объект:

Этот город можно назвать средневековым музеем под открытым небом, он является центром международного туризма и внесён в список Всемирного наследия ЮНЕСКО. Город расположен на 118 островах одноименной лагуны одного из морей Атлантического океана, разделённых 150 каналами и протоками, через которые переброшено около 400 мостов. Назовите этот город, государство, на территории которого он располагается и море, которое его омывает.

город: Венеция

государство: Италия

море: Адриатическое

8. Назовите столицу западноевропейского государства.

Один из красивейших городов мира, центр туризма. Здесь размещена штаб-квартира организации ЮНЕСКО и еще более 200 международных организаций. Одну из крупнейших в мире агломераций. Свое название город получил от галльского племени, которые в 1 веке до н. э. основали здесь, у переправы через реку, первое поселение. Затем римляне построили здесь свое укрепленное поселение — Лютеция (на о. Сите). Его упоминает Юлий Цезарь.

1. Прага 2. Мадрид 3. Париж 4. Лиссабон

9. Назовите страны с низким уровнем урбанизации?

А) Франция, Сан-Марино, Португалия, Ватикан В) Ватикан, Финляндия, Мальта, Люксембург

Г) Люксембург, Андорра, Бельгия, Австрия Д) Греция, Дания, Монако, Норвегия

Е) Португалия, Ирландия, Греция, Финляндия

10. Укажите признак, общий для России, Турции и Египта:

1. это крупнейшие по территории государства мира;
2. эти государства лидируют по запасам углеводородного сырья;
3. территория этих государств простирается на две части света;
4. население этих стран характеризуется этнической мозаикой

11. Наиболее богаты минеральными ресурсами...

- А) Россия, США, Канада, Китай Б) Япония, Швейцария, Великобритания
 В) ЮАР, Германия, Норвегия, ОАЭ Г) Китай, Монголия, Турция, Украина.

12. Укажите ошибку в составе «Большой восьмерки»

- 1) США; 2) Япония; 3) Испания; 4) Великобритания; 5) Германия; 6) Франция; 7) Италия; 8) Канада.

13. Установите соответствие между маркой автомобиля и страной производителем

Марка автомобиля	Страна производитель
1 Джeneral моторз	б Венгрия
2 Деумоторз	в Германия
3 Икарус	г США
4 Рено	д Великобритания
5 Роллс-ройс	е Испания
6 Сааб	ж Япония
7 Сеат	з Франция
8 Тойота	и Корея
9 Фиат	к Швеция
10 Фольксваген	л Италия

1-г+
 2-д+
 3-б+
 4-з+
 5-д+
 6-ж+
 7-е+
 8-и+
 9-к+
 10-л+
 105

14. Укажите общий признак для морей Беллинсгаузена, Содружества, Дейвиса, Сомова

1. принадлежат бассейну Атлантического океана;
2. не замерзают в течение года;
3. характерно множество коралловых островов и рифов;
4. омывают берега одного материка.

15. Хабаровский край, как и другие субъекты Российской Федерации, имеет свою административно территориальную структуру. Какая из предложенных вариантов соответствует нашему краю?

1. 19 муниципальных районов и 9 городов
2. 20 муниципальных районов и 5 городов
3. 19 муниципальных районов и 9 городов
4. 17 муниципальных районов и 7 городов

285

Аналитический тур

Задание №1. В Москве состоялась конференция, посвященная проблемам экологии и социально-экономического развития городов России и зарубежных стран. Определите, представители каких городов участвовали в конференции, если известно, что делегаты добирались до пункта назначения на следующих фирменных поездах: «Арктика», «Байкал», «Енисей», «Карелия», «Крым», «Лотос», «Сура», «Югра», «Юрмада», «Янтарь».

Книжечка - Юрмада, Калининград, Мурманск, Красноярск, Тараз, Сибирь, Вераха

Задание №2. Основанный в 326 г. византийским императором Константином на берегах моря и пролива, через которые проходит важнейший международный водный путь, этот город несколько столетий носил его имя. В Древней Руси он был известен как Царьград. Однако в стране, которой он был завоеван в 1453 г., его называли по-другому. Расположенный в двух частях света, город на протяжении многих веков был столицей трех империй – Римской, Византийской и Османской. Бурные исторические события нашли свое отражение в облике города. Особенно старую его часть украшают сотни мечетей с высокими минаретами, дворцы, храмы, фонтаны и другие архитектурные сооружения византийских времен, турецкого средневековья и нового времени.

В VI в. до н.э. персидский царь Дарий впервые навел переправу через пролив разделяющий город, по которому прошло его семидесятитысячное войско. Спустя 2,5 тыс. лет обе части света соединил мост, четвертый в мире по величине и способный пускать океанские суда любых размеров.

95

Константинополь (Стамбул) ⁺¹⁵ Азия + Европа ²⁵ 48 % Босфор, Дарданеллы

Задание №3. В таблице приведены координаты всех объектов одного назначения, располагающихся в пределах СНГ. Определите эти объекты и укажите их названия или названия населенных пунктов, вблизи которых они расположены. Назовите известные Вам объекты аналогичного назначения в остальных странах мира. Назовите принципы размещения, являющиеся решающими при размещении таких объектов?

	Объект	Координаты
А		45,6° сш 63,3° вд
Б	Архангельск - ⁺	62,6° сш 40,3° вд
В	Вологодская - ⁺	51,5° сш 128,5° вд
Г	Восточная - ⁺	48,5° сш 45,8° вд

Задание №4. Россия граничит по суше с 14 государствами. Определите, о каких трёх государствах идёт речь. Назовите их столицы.

Первое: Казахстан ⁺

- А) После распада СССР столица этого государства сначала изменила свое название, а затем изменила и местоположение.
- Б) Страна располагает крупными запасами топливно-энергетического сырья: занимает 8 место по разведанным запасам угля и удерживает 3 место по разведанным запасам урана после Австралии и Канады.
- В) По переписи населения 1989 года доля титульной нации составляла - 39,7%, почти столько же было русских - 37,8%.

Второе: Турция ⁺

- А) Первые государства стали появляться на этой территории в VI - IV в.в. до н.э. В XVI веке территорию поделили между собой Турция и Иран.
- Б) Весной 2006 года правительство РФ наложило вето на поставку в Россию некоторых видов продукции этой страны.
- В) Мировое значение имеет Чиатурское месторождение марганца.

Третье: Финляндия ⁺

- А) Численность населения этой страны почти равна численности жителей в Санкт-Петербурге. В этой стране два официальных языка.
- Б) Одно из главных природных богатств - леса, которые занимают 70% территории (доминирует сосна).
- В) Озера занимают 8% территории и имеют в основном котловины ледниково-тектонического происхождения.

Задание №5. Это уникальное горное озеро в Солнечном районе Хабаровского края. Уникальность его прежде всего в том, что оно как бы «появилось ниоткуда»: озеро неожиданно заметили и описали во время экспедиции, возможно, что оно образовалось совсем недавно, а может — миллионы лет назад (как озеро возникло, ученые не выяснили). Это экологически чистое место, которое поражает восхитительным горным воздухом, холодными водами озера, что по прозрачности вполне могут сравниться со знаменитыми водами Байкала (которые являются эталоном для оценки по данному критерию). Здесь растут ели, насчитывающие по возрасту более века. А зимою на этой территории выпадает большое количество снега, покрывающего здешние земли начиная с октября и сходящего только к середине июня. Вокруг озера уникальный микроклимат, туда приезжают лечиться, отдыхать, тренироваться. Дно озера пока не изучено, и там может оказаться все что угодно. Это озеро включено в список 7 чудес Хабаровского края. Назовите это уникальное озеро. Какие еще объекты включены в список?

Амур. Слотос Русс Амур
 Маньчжурские острова, Петропавловск Камчатский - Амур.
 Свет через Амур: Амурский пар