

**Всероссийская олимпиада школьников по географии
школьный этап 2021-2022 учебный год
5-6 класс**

**Лист ответов
Тестовый тур**

№	Ответ	
1	10 ⁺ , 2А ⁺ , 3 ⁺ , 45 ⁺	15
2	6 ⁺ , 2, 45 ⁺	15
3	AB ⁺	15
4	1A ⁺ , 45 ⁺ , 2B ⁺ , 3Г ⁺	15
5	8 ⁺	15
6	5 —	—
7	A2, B3, B4, 28	15
8	8Г	15
9	50 процентов	—
10	В Б	15


Всего 145 56%

Теоретический тур

Задание № 1. Метеоприборы»

№ прибора	Название прибора	Назначение прибора	Единицы измерения прибора
1	Термометр	измерение температуры воздуха	С° 15
2	Барометр		мм. рт.ст
3	Гигрометр	измерение влаги	% —
4		Измерение силы ветра	
5		Измерение количества осадков	
6	Флюгер	Измерение направления ветра	

15


Проверен 

Задание № 2. «Природное явление»

Вопрос	Ответ
1. Что это за природное явление?	солнечное затмение + 10
2. С чем связывали древние люди это явление, почему его боялись?	1. (Боялись солнечное затмение) сезон, война, морю, болезни потому что боялись как-то тьма 2. 05 3. 4.
3. Объясните, почему происходит данное явление?	затмение Луна закрывает солнце + 10
4. Как живые организмы реагирует на это явление?	1. Могут молчать 2. 3. 4.

25

Задание № 3. Топографическая карта»

Вопрос	Ответ
1. В каком направлении от с. Князе-Волконское находится с. Анастасьевка?	на севере -6 + На севере 0,5
2. На каком берегу реки Амур находится п. Приамурский?	на южной на юге -
3. Какое село находится западнее: Матвеевка или Берёзовка?	Красноозимовка - Красноозимовка
4. По какому азимуту нужно двигаться от г. Хабаровска до с. Елабуга?	северно-восточный + и азимуты 0,5
5. Какая река впадает в озеро Петропавловское?	река Ермак + 0,5
6. Территория какого субъекта Российской Федерации изображена на топокарте?	Челябинская + 0,5 Челябинская
7. В каком направлении от с. Ракитное находится аэропорт им. Г.И. Невельского?	в северном направлении + 0,5
8. Что означает вертикальная линия на карте 136°?	река Ермак - расстояние между
9. Что обозначает данный знак на топокарте?	 + Болота 0,5

35

Всероссийская олимпиада школьников по географии
школьный этап 2021-2022 учебный год
7-8 класс

Лист ответов
Тестовый тур

№	Ответ
1	2) +
2	1б, 2-2, 3в, 4-а +
3	2 +
4	б +
5	а2 +
6	б +
7	б
8	б +
9	а +
10	а +
11	а +
12	2 +
13	б
14	А-2; Б-3; В-1 +
15	б +

Всего 255 - 58%

135

Проверено - Бу

Всероссийская олимпиада школьников по географии
школьный этап 2021-2022 учебный год
7-8 класс

Лист ответов
Теоретический тур

Задание 1. «Космический снимок»

№	Вопрос	Ответ
1	Как называется этот искусственный гидрографический объект?	Суэцкий канал +
2	Какие части света он разъединяет?	Африка и Европа
3	Какие водные объекты он соединяет?	Средиземное и Красное море +
4	Какие города расположены на берегу объекта?	Каир —
5	На территории какого государства расположен этот гидрографический объект?	Египет +
6	Столица государства, на территории которого расположен этот гидрографический объект?	Каир +
7	Почему этот объект без шлюзов?	45

Проверен 

Задание №2 «Стихийные бедствия»

№	Вопрос	Ответ
1.	Название страны 1	Япония + 0,5
	Название страны 2	Филиппины + 0,5
2.	Названия морей омывающих 1 страну	Японское море + 0,5
	Названия морей омывающих 2 страну	Южно-Китайское море + 0,5
3.	Стихийные бедствия	
4.	Причины стихийных бедствий	

20

Проверено *Ф*

Задание 3. «Топокарта»

№	Вопрос	Ответ
1	По какому азимуту надо идти от родника до домика лесника?	100° + 0,5
2	Определите, какие объекты обозначены условными знаками № 1 № 2	объект + кустарник 0,5 0,5
3	Определите, в каком направлении протекает главная река территории?	ю-з - с + 0,5
4	В каком направлении от озера находится домик лесника?	В западном направлении —
5	В каком лесу расположен домик лесника?	хвойном + 0,5
6	Река Андога является правым или левым притоком реки Мечоты?	правый + 0,5
7	На каком берегу реки Мечота находится пристань?	на левом + 0,5
8	Какой мост изображен на карте?	ж/д + 0,5
9	Чему равна высота холма, расположенного к юго-востоку от домика лесника?	180,4 м + 0,5
10	Можно ли увидеть из поселка Ладогоино плотину на реке Андога?	нет + 1
11	В каком направлении ему было ехать легче?	северо-восточном направлении —
12	Какой берег реки Мечоты более крутой?	правый + 0,5

Проверка Вл 65

Задания 4. «Природные зоны»

№	Вопрос	Ответ
1	Назовите название природной зоны?	Тундра
2	Какие свойства лиственницы дали ей название «Хвойный дуб»?	За умение свойства древесины
3	Почему кедровый стланик получил такое название?	
4	Как называются острова (архипелаг) расположенные в данной природной зоне?	
5	Экологические проблемы в природной зоне	<p>Только на 2-3 месяца побережье островов полностью очищается от льда. В этот период в зоне происходит деградация растительности, вымывание почвы, уничтожение животных.</p>

Проверен: Ба

Курсовая

Мак 265 5-1

Всероссийская олимпиада школьников по географии
школьный этап 2021-2022 учебный год
5-6 класс

Лист ответов
Тестовый тур

№	Ответ	
1	10, 2. А, 3. Г, 4. Б	15
2	А	-
3	Б	-
4	1а, 3б, 2в, 4г...	0,5
5	А	-
6	Б	-
7	А 2, Б 4, В 3, Г 1	0,5
8	Г	15
9	940 градусов	15
10	Б	15

Всего 158 58%


15
-
-
0,5
-
-
0,5
15
15
15
58

Теоретический тур

Задание № 1. Метеоприборы»

№ прибора	Название прибора	Назначение прибора	Единицы измерения прибора
1	Термометр	Измеряет температуру воздуха	температура, градусы
2	Барометр	Измерение давления	мм. рт.ст
3	Гигрометр	для измерения относительной влажности	%
4		Измерение силы ветра	м.с., км.с.
5		Измерение количества осадков	см., мм.
6	Флюгер	Измерение направления ветра	Восточный, Южный, Северный

15
0,5
0,5
15
0,5
15

Проверен 


58

Задание № 2. «Природное явление»

Вопрос	Ответ
1. Что это за природное явление?	Солнечное затмение + 15
2. С чем связывали древние люди это явление, почему его боялись?	<p>1. С тем что древние люди думали о том что их духи решили наказать их + 05</p> <p>2.</p> <p>3.</p> <p>4.</p>
3. Объясните, почему происходит данное явление?	<p>Луна, Солнце и Земля выстраиваются в одну линию и от Луны тень падает на планету Земля + 15</p>
4. Как живые организмы реагирует на это явление?	<p>1. Насекомые</p> <p>2. Млекопитающие.</p> <p>3. травоядные</p> <p>4. Рыбы.</p>

57-1

Задание № 3. Топографическая карта»

Вопрос	Ответ
1. В каком направлении от с. Князе-Волконское находится с. Анастасьевка?	В северном направлении 0,5
2. На каком берегу реки Амур находится п. Приамурский?	на Травой 0,5
3. Какое село находится западнее: Матвеевка или Берёзовка?	Берёзовка. 0,5
4. По какому азимуту нужно двигаться от г. Хабаровска до с. Елабуга?	в Северо-восточном 45° 0,5
5. Какая река впадает в озеро Петропавловское?	—
6. Территория какого субъекта Российской Федерации изображена на топокарте?	Хабаровский 0,5
7. В каком направлении от с. Ракитное находится аэропорт им. Г.И. Невельского?	Торжественно 0,5
8. Что означает вертикальная линия на карте 136°?	136 градусов обозначает её нахождение 0,5
9. Что обозначает данный знак на топокарте?	 Болото + 0,5

0,5